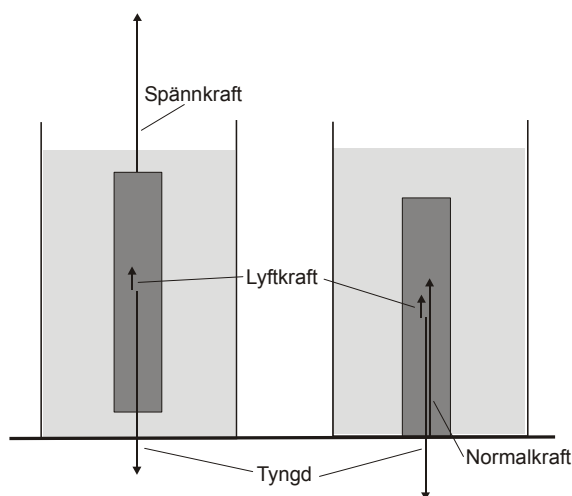


# Problemsamling 1

## Lösningsförslag

1. [Kval 2004-1] Skillnaden i avläsningen av vågen mellan bild 1 och 2 bestäms av vattnets lyftkraft på metallstaven som enligt Arkimedes princip är tyngden av det undanträngda vattnet. Samma kraft påverkar då vågen enligt Newtons tredje lag. Denna tyngd är  $(0,8310,821) \cdot g = 0,010 \cdot g$  vilket motsvarar massan 10 gram. Med hjälp av vattnets densitet  $1,0 \text{ g/cm}^3$  kan då stavens volym beräknas till  $10 \text{ cm}^3$ .



Skillnaden i avläsningen av vågen mellan bild 1 och 3 bestäms av metallstavens tyngd. Denna motsvarar massan  $(897 - 821) \text{ g} = 76 \text{ g}$ . Stavens densitet är då

$$\rho = \frac{m}{V} = \frac{76 \text{ g}}{10 \text{ cm}^3} = 7,6 \text{ g/cm}^3$$

Svar: Stavens densitet är  $7,6 \text{ g/cm}^3$ .

2. [Kval 2003-1] a) Effekten i antennen kan beräknas med hjälp av sambandet

$$P = RI^2 = (0,07 + 2,60) \cdot 100^2 \text{ W} = 26,7 \text{ kW}$$

Andelen strålningseffekt ges av kvoten

$$\frac{0,07 \cdot 100^2}{(0,07 + 2,60) \cdot 100^2} = 0,026 = 2,6\%$$

b) Strömmen genom strålningsmotståndet blir då enligt Kirchhoffs strömlag  $600 \text{ A}$ . Effekten i multipelantennen kan då skrivas

$$P = 0,07 \cdot 600^2 + 6 \cdot 2,60 \cdot 100^2 = 181 \text{ kW}$$

Andelen strålningseffekt ges av kvoten

$$\frac{0,07 \cdot 600^2}{0,07 \cdot 600^2 + 6 \cdot 2,60 \cdot 100^2} = 0,139 = 13,9\%$$

Svar: a) Antenneffekten är  $27 \text{ kW}$  varav  $2,6\%$  är strålningseffekt. b) Effekten för multipelantennen  $181 \text{ kW}$  varav  $14\%$  är strålningseffekt.

3. [Kval 2003-2] a) The airplane starts at time  $5 \text{ s}$  and leaves ground at time  $35 \text{ s}$  (approximately). You can see that it leaves ground since the acceleration suddenly increases because it gets a vertical component.

b) The acceleration time is approximately  $(35,5 - 5,0) \text{ s} = 30 \text{ s}$ . The mean value of the acceleration during this time seems to be around  $2,5 \text{ m/s}^2$  according to the diagram. Since the start velocity is zero we have

$$v = at = 2,5 \cdot 30 \text{ m/s} = 75 \text{ m/s}.$$

c) The estimated length of the runway is

$$s = v_{\text{mean}} \cdot t = \frac{75}{2} \cdot 30 \text{ m} = 1125 \text{ m} = 1,1 \text{ km}$$

Svar: b) The estimated take off velocity is  $75 \text{ m/s}$  c) It must be at least  $1,2 \text{ km}$ .

4. [Kval 2002-4] Den tillförda energin under tiden  $22,0$  minuter används för att värma upp vätskan och kompensera för värmeövergången till omgivningen. Denna värmeövergång är lika stor vid båda försöken eftersom vätskans temperatur är densamma – liksom omgivningens. Vi inför beteckningarna:

$$P_1 = U_1 \cdot I_1 = 4,00 \cdot 3,90 \text{ W} = 15,6 \text{ W}$$

$$P_2 = U_2 \cdot I_2 = 4,40 \cdot 4,25 \text{ W} = 18,7 \text{ W}$$

$$m_1 = 0,680 \text{ kg}, \quad m_2 = 0,825 \text{ kg}$$

$$\Delta T = (22,0 - 10,0) \text{ }^\circ\text{C} = 12 \text{ }^\circ\text{C}$$

$$t = 22 \cdot 60 \text{ s} = 1320 \text{ s}$$

$c$  är vätskans specifika värmekapacitet och  $Q$  är värmets som går över till omgivningen under  $22,0$  minuter.

Energiprincipen ger då för de båda försöken ekvationerna.

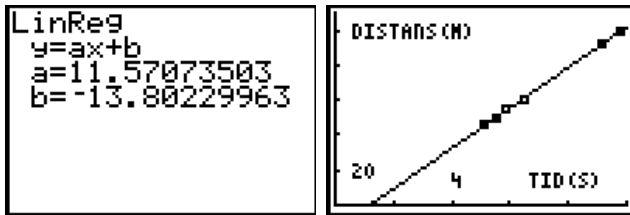
$$\begin{cases} P_1 \cdot t = Q + m_1 c \cdot \Delta T \\ P_2 \cdot t = Q + m_2 c \cdot \Delta T \end{cases}$$

Ur detta ekvationssystem löses  $c$  ut.

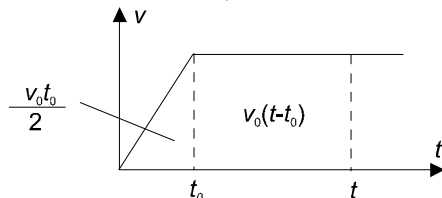
$$c = \frac{(P_2 - P_1)t}{(m_2 - m_1)\Delta T} = \frac{(18,7 - 15,6) \cdot 1320 \text{ J}}{(0,825 - 0,680) \cdot 12 \text{ kg} \cdot \text{K}} \\ = 2353 \frac{\text{J}}{\text{kg} \cdot \text{K}} = 2,35 \frac{\text{kJ}}{\text{kg} \cdot \text{K}}$$

Svar: Vätskans specifika värmekapacitet är  $2,35 \text{ kJ}/(\text{kg} \cdot \text{K})$ .

5. [Kval 2000-2] Rita distansen som funktion av tiden och anpassa en rät linje till punkterna. Riktningkoefficienten för denna linje motsvarar den konstanta hastigheten  $v_0 = 11,57 \text{ m/s}$ . Bilderna nedan på det grafiska fönstret av en räknare visar resultaten.



För att bestämma  $t_0$  och  $a$  använder vi oss av följande diagram.



Distansen,  $s$ , blir enligt diagrammet

$$s = \frac{v_0 t_0}{2} + v_0(t - t_0) = v_0 t - \frac{v_0 t_0}{2}.$$

Eftersom värdet på  $b$  d v s 13,8 i rutan ovanför motsvarar  $\frac{v_0 t_0}{2}$  och  $v_0 = 11,57$  m/s kan nu  $t_0$  beräknas till 2,4 s.

Slutligen beräknas accelerationen  $a = \frac{v_0}{t_0} = \frac{11,57}{2,4} = 4,8$  m/s<sup>2</sup>.

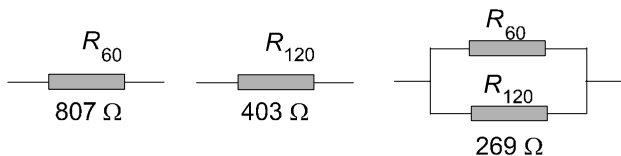
Svar:  $v_0 = 11,6$  m/s,  $t_0 = 2,4$  s och  $a = 4,8$  m/s<sup>2</sup>.

6. [Kval 2001-4] Effekten  $P$  är omvänt proportionell mot kretsens resistans  $R$  enligt sambandet  $P = \frac{U^2}{R}$  som ger  $R = \frac{U^2}{P}$ . Resistansen som svarar mot den lägsta effekten, 60 W, kallas  $R_{60}$  och med motsvarande beteckningar fås  $R_{120} = \frac{R_{60}}{2}$  och  $R_{180} = \frac{R_{60}}{3}$ . Mellan dessa tre resistanser har vi sambandet

$$\frac{1}{R_{60}} + \frac{1}{R_{120}} = \frac{1}{R_{60}} + \frac{2}{R_{60}} = \frac{3}{R_{60}} = \frac{1}{R_{180}}.$$

Detta betyder att vi får  $R_{180}$  om vi parallellkopplar  $R_{60}$  och  $R_{120}$ . Vi kan alltså få de erforderliga resistanserna med hjälp av  $R_{60}$  och  $R_{120}$ .

Vi får då  $R_{60} = \frac{U^2}{P} = \frac{220^2}{60} = 807 \Omega$  och  $R_{120} = \frac{U^2}{P} = \frac{220^2}{120} = 403 \Omega$  samt  $R_{180} = \frac{U^2}{P} = \frac{220^2}{180} = 269 \Omega$  som erhålls genom parallellkoppling av  $R_{60}$  och  $R_{120}$ .



Svar: De två glödtrådarna har resistanserna 807  $\Omega$  respektive 403  $\Omega$  då de lyser. Inkopplingen av glödtrådarna sker var för sig eller parallellt för att de tre olika effekterna skall erhållas.

7. [Kval 2002-2] The sun subtends an angle,  $\alpha$ , given by the diameter,  $d$ , of the sun and the distance,  $s$ , to the sun.

$$\alpha = \frac{d}{s} = \frac{2 \cdot 6,96 \cdot 10^8}{1,496 \cdot 10^{11}} = 0,0093 \text{ rad}$$

The length of the airliner in the picture is around 16 % of the diameter which means that the airliner subtends an angle of

$$0,16 \cdot 0,0093 \text{ rad} = 0,0015 \text{ rad}$$

This angle can also be written as the length,  $l$ , of the airliner divided by the distance,  $s$ , which gives

$$\frac{l}{s} = 0,0015 \text{ and } s = \frac{l}{0,0015} = \frac{61}{0,0015} \text{ m} = 41 \text{ km}.$$

Answer: The range from the photographer to the airliner is around 4 Swedish mile.

8. [Kval 2009-2] Flödet från kranen är

$$\frac{3,3 \cdot 10^{-4} \text{ m}^3}{12 \text{ s}} = 2,75 \cdot 10^{-5} \text{ m}^3/\text{s}.$$

Vattnets hastighet (=flödet / tvärsnittsarean) uppe vid kranen respektive nere vid vaskens botten:

$$v_0 = \frac{2,75 \cdot 10^{-5} \text{ m}^3/\text{s}}{\pi(4 \cdot 10^{-3} \text{ m})^2} = 0,55 \text{ m/s},$$

$$v = \frac{2,75 \cdot 10^{-5} \text{ m}^3/\text{s}}{\pi(2 \cdot 10^{-3} \text{ m})^2} = 2,2 \text{ m/s}.$$

Vattnets fart ökar alltså från 0,58 m/s till 2,3 m/s på en sträcka av 0,24 m. Accelerationen fås ur  $2as = v^2 - v_0^2$  och blir (räknar med oavrundade värden)

$$a = \frac{v^2 - v_0^2}{2s} = \frac{2,2^2 - 0,55^2}{2 \cdot 0,24} \text{ m/s}^2 = 9,4 \text{ m/s}^2.$$

Svar:  $1 \cdot 10^1$  m/s<sup>2</sup> (eller 9 m/s<sup>2</sup>)